

Toets: Landbouw in Sub-Sahara-Afrika

1. Bekijk de animatie op het scherm en los onderstaande vragen op. /3,5

a) Waarvoor staat ITCZ? /1

.....

b) Verklaar wat je ziet op de animatie a.d.h.v. ITCZ. /2,5

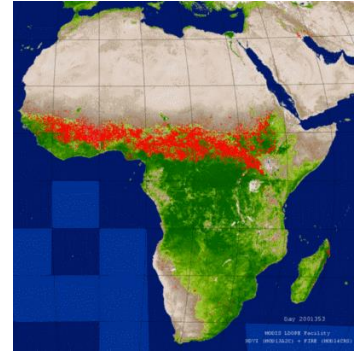
.....

.....

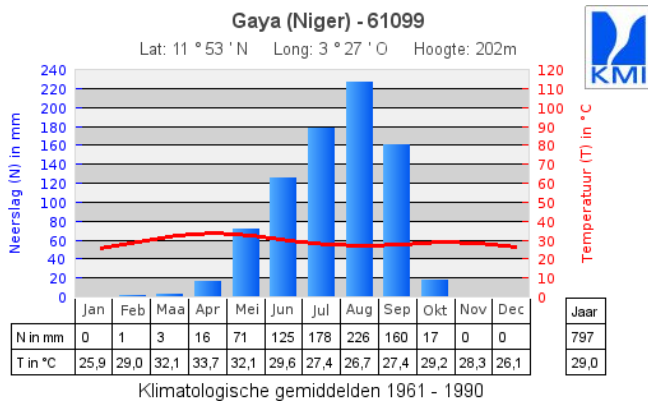
.....

.....

.....



2. Landbouw in Gaya (Niger). Leidt volgende gegevens af uit het klimatogram. /8



a) Welke vegetatie vind je in Gaya (Niger)? /1

b) Op welke drie manieren doet men aan landbouw in dit gebied? /3

.....
.....
.....

c) In welke maand zal men: /2

- Zaaien:

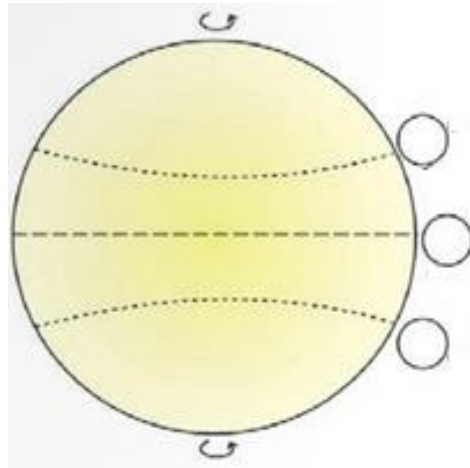
- Oogsten:

d) Waarom verbouwen de boeren meerdere gewassen? /2

.....
.....
.....

3. Passaatwinden. /3,5

Teken de passaten met pijlen op de schematische tekening en vul de drukgebieden aan in de cirkels.



Veel succes!